


Für den Verkauf werben (2)

Werbung soll jemanden dazu verleiten, etwas zu kaufen. Aber wie funktioniert Werbung?

1 Betrachte die Werbeplakate genau und vergleiche.



2 Welches Plakat macht die bessere Werbung? Begründe: _____




der Würfel



der Quader



die Kugel



die Pyramide



der Zylinder




der Kegel

1 Welche geometrischen Körper erkennst du in den Gegenständen?



A _____



B _____



C _____




D _____



E _____



F _____



G _____



H _____



I _____



J _____



K _____




L _____



M _____



N _____



O _____



P _____

3 Ergänze die Angaben.



der Quader

Ecken	
Kanten	
Flächen	



die Kugel

Ecken	
Kanten	
Flächen	



der Zylinder

Ecken	
Kanten	
Flächen	



die Pyramide

Ecken	
Kanten	
Flächen	